

Medellöner inom landstingen

Genomsnittlig månadslön (medellön) för kvinnor och män inom vissa yrkesgrupper 2004 respektive 1999. Dessutom anges antalet anställda kvinnor och män i respektive yrkesgrupp.

2004

Yrkesgrupp	Medellön		Antal	
	Kvinnor	Män	Kvinnor	Män
Kontorspersonal	16 867	16 660	2 681	228
Undersköterska	17 712	17 373	35 329	1 745
Skötare	18 140	18 104	5 685	3 588
Hantverkare	18 339	18 928	26	799
Sjuksköterska	22 508	22 745	72 237	6 711
Sjukgymnast	21 809	21 442	4 970	878
Administrativ personal	24 272	31 705	13 036	5 042
Läkarsekreterare	18 009	18 166	15 425	35
Psykolog	27 242	28 091	2 471	908
Tandläkare	34 003	37 706	2 545	1 680
Specialistkompetent läkare	49 613	52 285	6 715	10 954
Underläkare	30 722	31 175	4 689	3 989

1999

Yrkesgrupp	Medellön		Antal	
	Kvinnor	Män	Kvinnor	Män
Kontorspersonal	14 433	14 479	3 690	266
Undersköterska	14 734	14 493	36 435	1 476
Skötare	15 014	15 021	6 490	3 745
Hantverkare	15 267	15 610	45	1 373
Sjuksköterska	18 309	18 487	68 119	5 583
Sjukgymnast	17 933	17 618	4 929	776
Administrativ personal	19 519	26 044	11 458	4 409
Läkarsekreterare	15 053	14 961	14 434	23
Psykolog	22 243	22 788	2 264	824
Tandläkare	26 348	29 266	2 544	1 778
Specialistkompetent läkare	39 790	42 603	5 885	10 540
Underläkare	24 658	25 040	3 686	3 476

Uppgifter

29. För vilken yrkesgrupp ökade kvinnors medellön mest, procentuellt sett, om man jämför de två åren?

- A Sjuksköterskor
- B Administrativ personal
- C Psykologer
- D Tandläkare

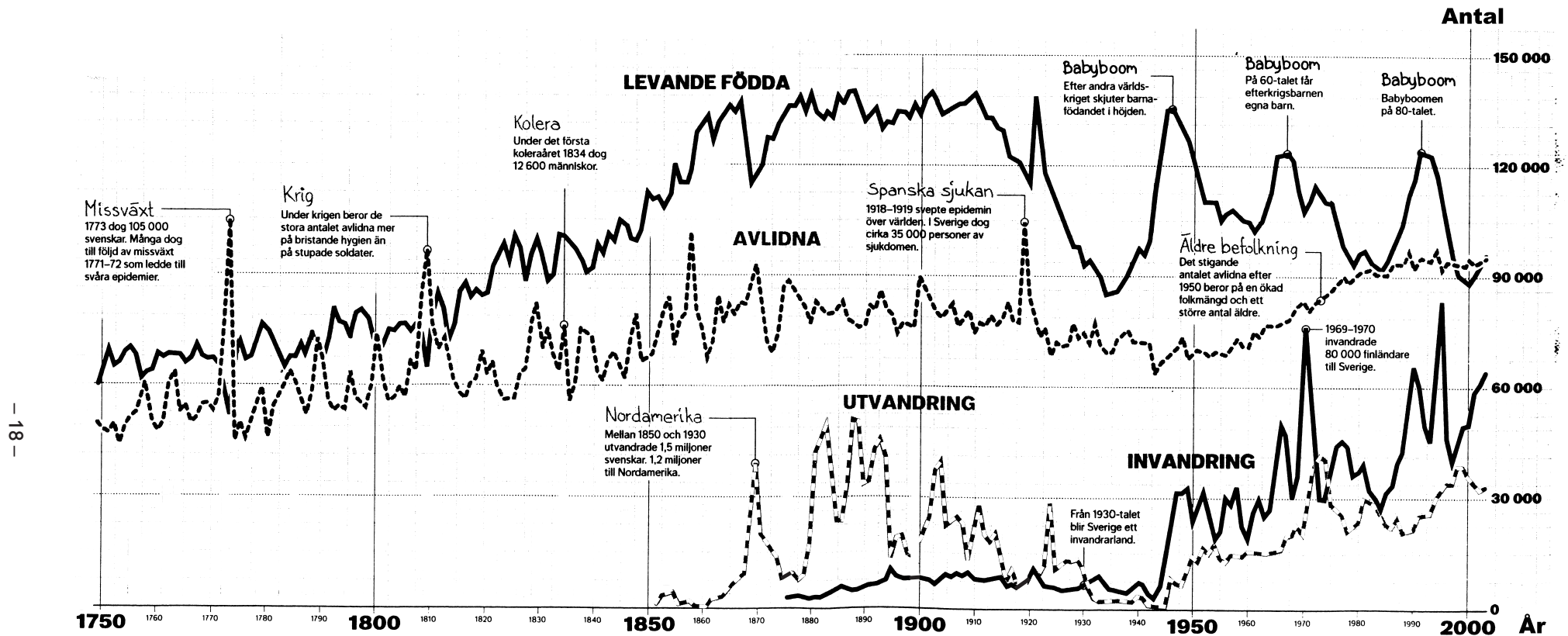
30. För hur många yrkesgrupper ökade såväl antalet anställda kvinnor som antalet anställda män från 1999 till 2004?

- A 4
- B 7
- C 9
- D 12

31. För vilken yrkesgrupp var skillnaden mellan kvinnor och män minst när det gäller medellön respektive antalet anställda 2004?

- A Skötare respektive underläkare
- B Sjuksköterska respektive hantverkare
- C Skötare respektive hantverkare
- D Sjuksköterska respektive underläkare

Befolkningsförändringar i Sverige



Antalet levande födda och avlidna samt antalet ut- och invandrare under perioden 1750–2004. Därutöver anges olika händelser som påverkat befolkningsutvecklingen.

Uppgifter

32. Vilken händelse sammanföll med att antalet avlidna översteg antalet levande födda med cirka 50 000 personer?

- A Missväxt
- B Krig
- C Kolera
- D Spanska sjukan

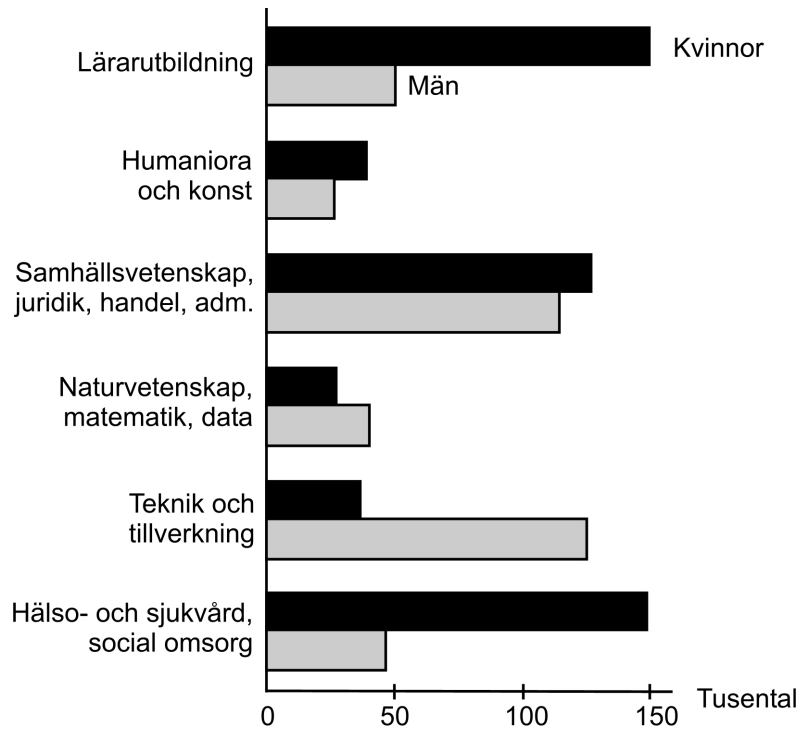
33. År 1750 uppgick Sveriges befolkning till cirka 1,8 miljoner och 2004 till 9,0 miljoner. Hur stor andel av befolkningen avled 1750 respektive 2004?

- A 1 respektive 5 procent
- B 3 respektive 1 procent
- C 3 respektive 10 procent
- D 10 respektive 5 procent

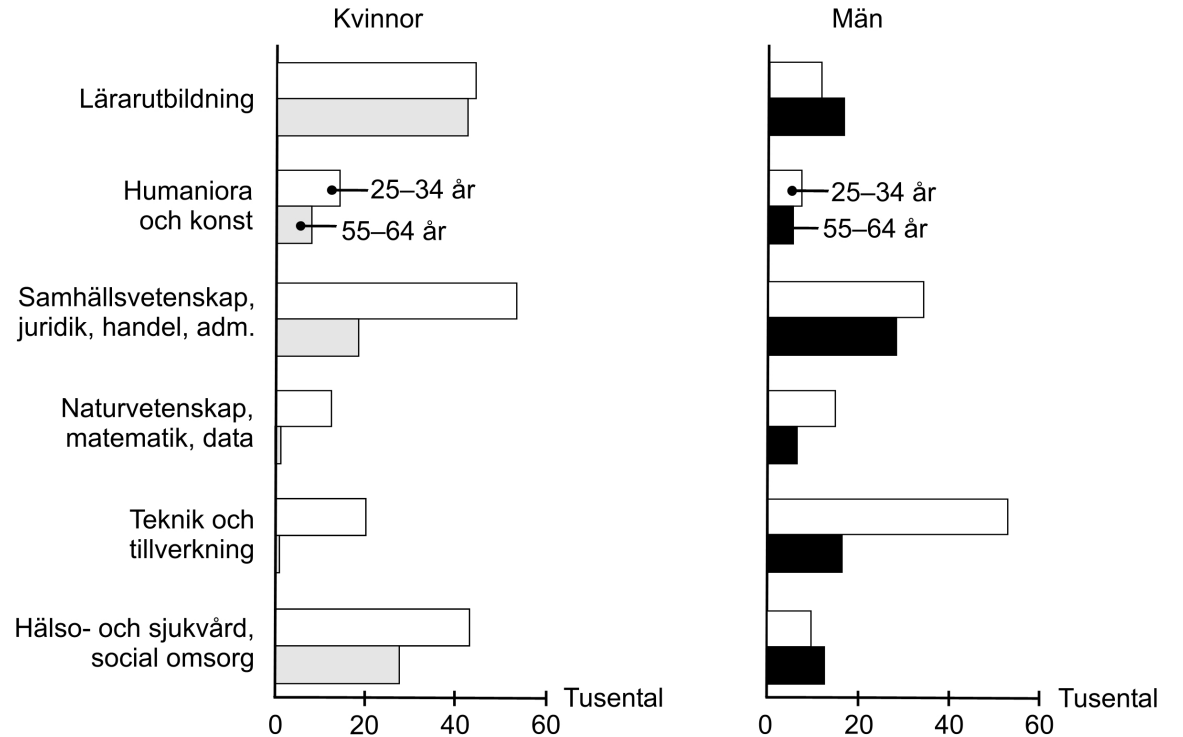
34. Identifiera den av de tre babyboomerna som vid sin kulmen innebar flest levande födda. Hur många fler var de levande födda vid denna tidpunkt jämfört med tio år tidigare?

- A 20 000
- B 30 000
- C 40 000
- D 50 000

Utbildningsinriktningar bland högutbildade



Antalet högutbildade¹ svenskar 25–64 år, fördelat på utbildningsinriktning och kön, 2006.



Antalet högutbildade¹ svenskar i åldersgrupperna 25–34 år och 55–64 år, fördelat på utbildningsinriktning och kön, 2006.

¹ Som högutbildad definieras här en person med en eftergymnasial utbildning på minst tre år.

Uppgifter

35. Hur många fler kvinnor än män i åldern 55–64 år hade lärarutbildning?

- A 2 000
- B 26 000
- C 33 000
- D 102 000

37. Hur många kvinnor i åldern 35–54 år hade utbildningsinriktningen samhällsvetenskap, juridik, handel, administration?

- A 55 000
- B 75 000
- C 105 000
- D 125 000

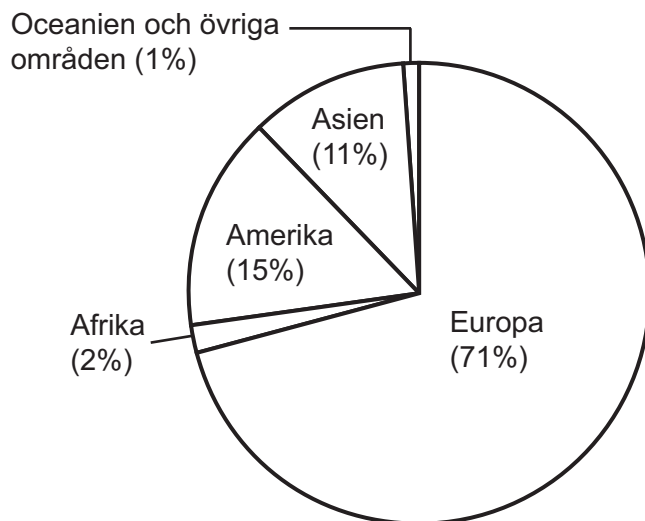
36. Vilken utbildningsinriktning avses?

I åldersgruppen 55–64 år hade fler kvinnor än män denna inriktning. Bland männen fanns det fler 25–34-åringar än 55–64-åringar med inriktningen.

- A Lärarutbildning
- B Humaniora och konst
- C Samhällsvetenskap, juridik, handel, adm.
- D Hälso- och sjukvård, social omsorg

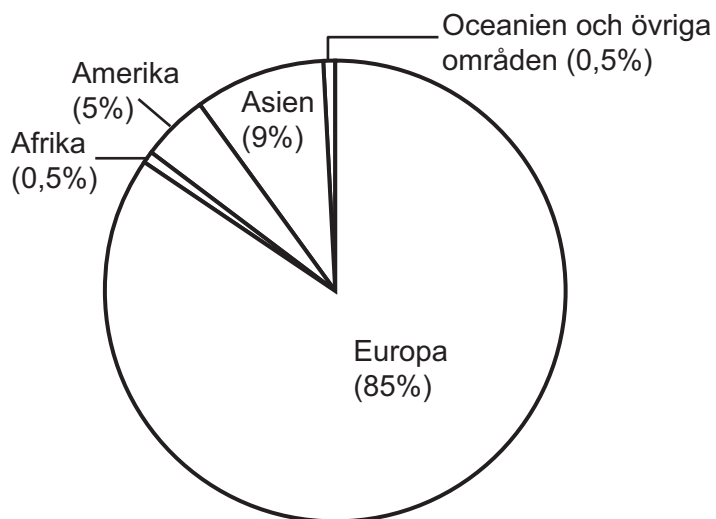
Export och import av varor

Totalt: 757 075 miljoner kr



Värdet av Sveriges varuexport januari–november 2003, procentuellt fördelat på världsdelar.

Totalt: 617 986 miljoner kr



Värdet av Sveriges varuimport januari–november 2003, procentuellt fördelat på världsdelar.

Uppgifter

38. Hur många procent större var värdet av Sveriges export jämfört med värdet av Sveriges import?

- A 15 procent
- B 25 procent
- C 80 procent
- D 120 procent

39. Hur mycket större var värdet av Sveriges export till Amerika jämfört med värdet av Sveriges import från Amerika?

- A 55 000 miljoner kr
- B 62 000 miljoner kr
- C 75 500 miljoner kr
- D 82 500 miljoner kr

40. Den del av Sveriges Asienexport som gick till När- och Mellanöstern hade ett värde av cirka 17 800 miljoner kronor. Hur stor andel av Asienexportens värde stod exporten till När- och Mellanöstern för?

- A 8 procent
- B 15 procent
- C 20 procent
- D 30 procent